



UTETIMEN

Kunnskapskort
Matematikk
5. trinn
Nr.01

Kva heiter plassen over brøkstreken?

$$\frac{2}{6}$$

- A Teller
- B Nevner
- C Enerplassen

Kva heiter plassen under brøkstreken?

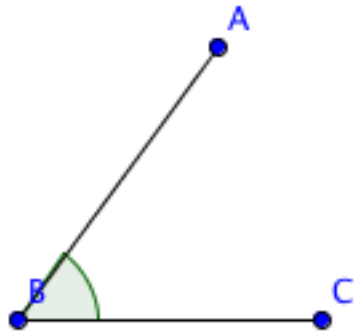
$$\frac{2}{6}$$

- A Teller
- B Nevner
- C Tierplassen

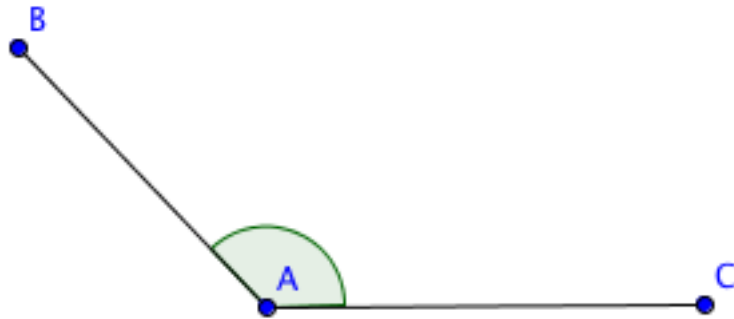
Kva er areal?

- A Kor høgt noko er
- B Kor stor ei flate er
- C Kor langt det er rundt noko

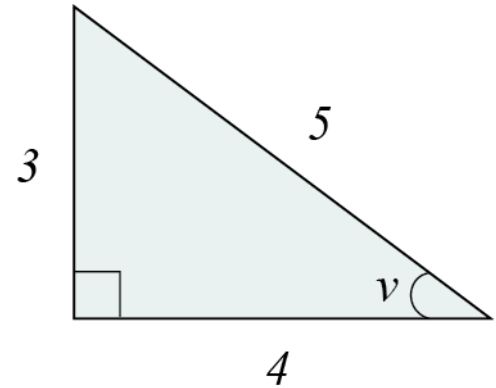
Kven av disse er ein stump vinkel?



A

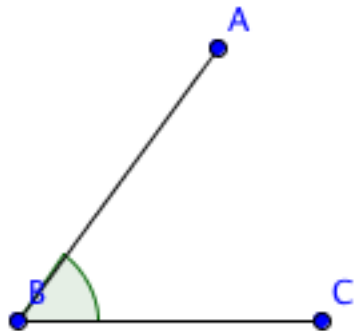


B

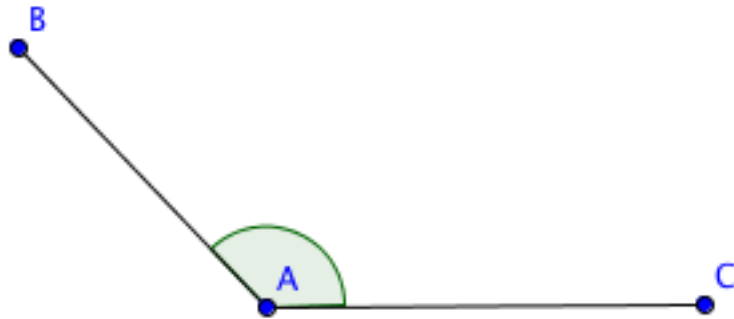


C

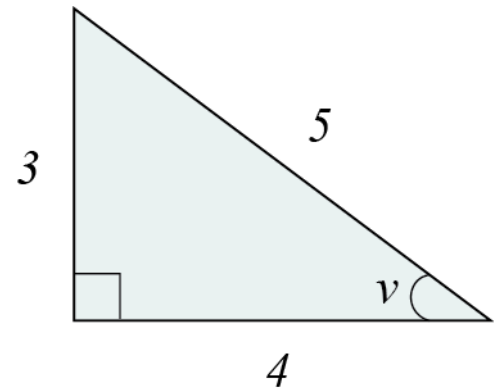
Kven av disse er ein spiss vinkel?



A

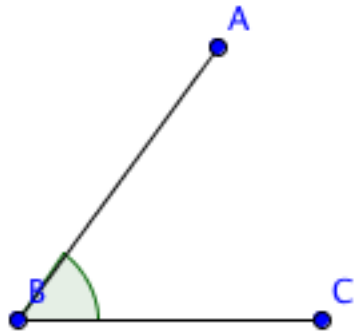


B

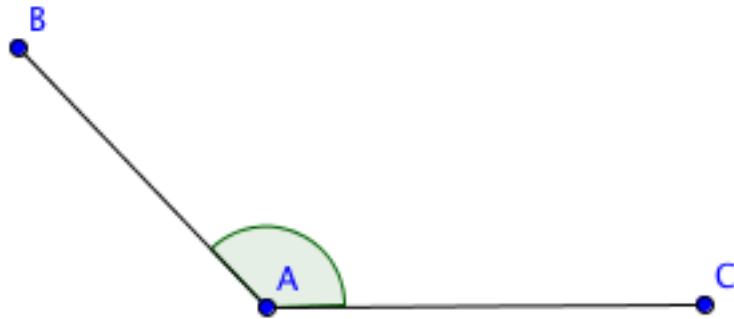


C

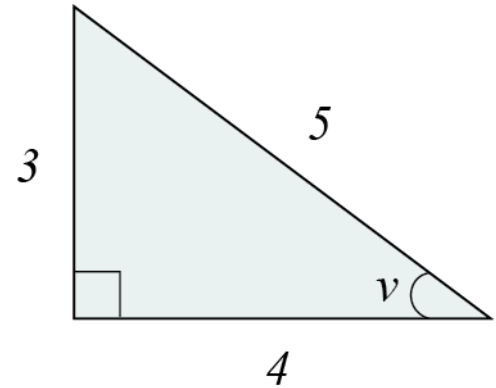
Kven av disse er ein rett vinkel?



A



B



C

Fasit

1. Kva heiter plassen som er over brøkstreken?
 - a. Teller
 - b.
 - c.
2. Kva heiter plassen som er over brøkstreken?
 - a.
 - b. Nevner
 - c.
3. Hva er eit areal?
 - a.
 - b. Kos stor ei flate er
 - c.
4. Kven av disse er ein stump vinkel?
 - a.
 - b. Riktig
 - c.
5. Kven av disse er ein spiss vinkel?
 - a. Riktig
 - b.
 - c.
6. Kven av disse er ein rett vinkel?
 - a.
 - b.
 - c. Riktig